


4. Résous ces problèmes (à chaque fois fais une phrase question et une phrase réponse).

Tu donnes un billet de 50 francs et une pièce de 5 francs à la caissière. Elle te rend 20 francs.

Combien lui devais-tu ?

/ 4




Je vais chez le boulanger trois fois par semaine.

Chaque fois j'achète : un pain à 4 francs, 2 brioches à 25 francs et un croissant à 5 francs.


Je paye ma note tous les lundis. Combien dois-je payer à chaque fois.

/ 6



Un mois dure environ quatre semaines. A combien cela me revient-il chaque mois ?

/ 3



5. Construit cercle de centre O et de rayon 5 cm.

Trace un second cercle de même centre et de rayon 3 cm.

6. Repasse en rouge les droites parallèles et en vert les droites perpendiculaires.

